

都道府県の形：どっち？

名前

あてはまるほうを○でかこみましょう。

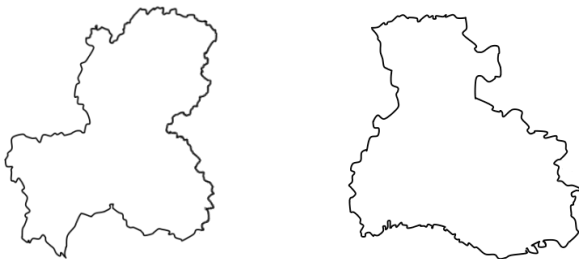
1 ながのけん
長野県



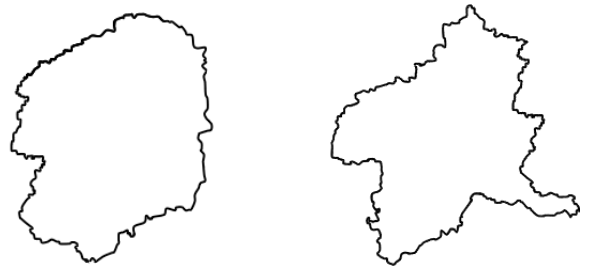
2 さがけん
佐賀県



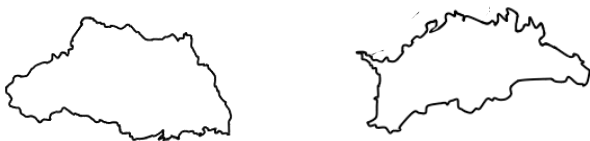
3 ひょうごけん
兵庫県



4 ぐんまけん
群馬県



5 さいたまけん
埼玉県



6 とやまけん
富山県

