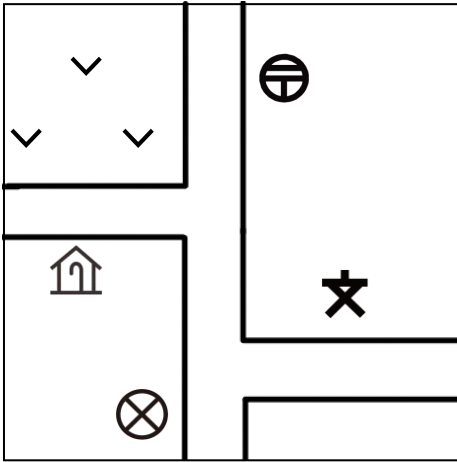


ひだり ちず

左の地図にないものを○で囲みましょう。



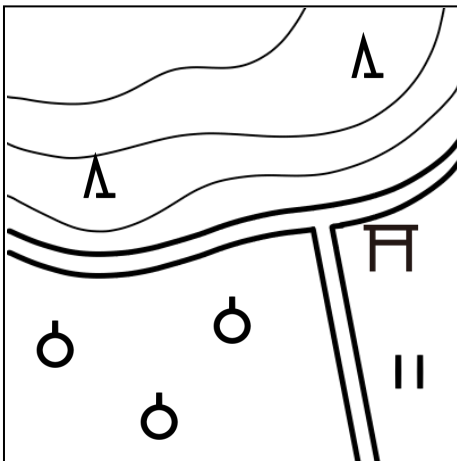
びょういん  
病院



けいさつしょ  
警察署



ゆうびんきょく  
郵便局



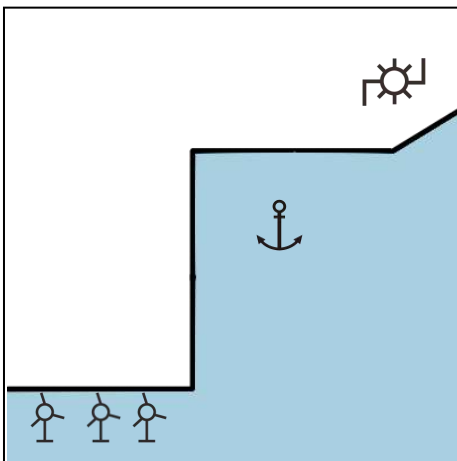
かじゅえん  
果樹園



こうようじゅりん  
広葉樹林



た  
田



とうだい  
灯台



はつでんしょ  
発電所



ふうしゃ  
風車

